



PLANINSKA  
ZVEZA  
SLOVENIJE

# SPOT

## Poljčane 2024



### Test A

Ime ekipe: \_\_\_\_\_

PD/OŠ: \_\_\_\_\_

Kategorija: \_\_\_\_\_

Število doseženih točk: pozitivne: \_\_\_\_\_ negativne: \_\_\_\_\_ skupno: \_\_\_\_\_

Pred vami je teoretičen del tekmovanja. Test je sestavljen iz različnih tipov nalog. **Pravilno rešena naloga se točkuje s 5 točkami, nepravilna z -5 točkami, nerešena naloga pa z 0 točkami.** Pišite jasno in čitljivo. Veliko sreče pri reševanju!

1. V kateri gorski vasici je deloval župnik Jakob Aljaž, ki je kupil vrh Triglava in na njem postavil stolp? 5 0 -5

- a) Kranjska Gora.
- b) Dovje.
- c) Gozd Martuljek.
- d) Bled.

2. Kako imenujemo pobočni proces, kjer gradivo prosto pada ali se prevrača po pobočju, pod pobočjem pa se odlagajo grušč in prevrnjeni bloki? 5 0 -5

- a) Gruščnati tok.
- b) Skalni podor.
- c) Usad.
- d) Zemeljski plaz.


3. Kakšna je priporočena razdalja med pohodniki, kadar hodimo s pohodnimi palicami? 5 0 -5

- a) Približno 0,5 m.
- b) Približno 1 m.
- c) Več kot 2 m.
- d) Ni pomembno, če imamo dobre reflekse.

4. Kaj sestavlja lavinski trojček? 5 0 -5

- a) Lavinska sonda, lavinski cepin, lavinska lopata.
- b) Lavinska sonda, lavinska žolna, lavinski nahrbtnik.
- c) Lavinska sonda, lavinska vrana, lavinska lopata.
- d) Lavinska sonda, lavinska žolna, lavinska lopata.

PD Fram, PD Gornja Radgona, PD Lovrenc na Pohorju, PD Poljčane, PD Ptuj, PD Ruše





PLANINSKA  
ZVEZA  
SLOVENIJE


# SPOT

## Poljčane 2024



- 5. Kakšen princip oblačenja nam omogoča vzdrževanje ustrezne telesne temperature in je najprimernejši za planinstvo?** 5 0 -5
- a) Uporaba sintetičnih oblačil iz najsodobnejših tkanin, ki so enoplastno ali dvoplastno tkane.
  - b) Uporaba naravnih materialov, predvsem volne, ki dobro zadržuje toploto.
  - c) Oblačenje v več slojih, ki jih po potrebi dodajamo ali odvezujemo.
  - d) Oblačenje v več slojih, pri čemer morajo biti vsa oblačila vodoodporna.
- 6. Katera trditev o sončnem sevanju je PRAVILNA?** 5 0 -5
- a) Čezmerna izpostavljenost kože sončnim žarkom ni škodljiva, saj tako telo dobi zelo pomemben vitamin D.
  - b) Pri nas v poletnem času v gorah UV indeks doseže vrednosti okoli 6.
  - c) V povprečju je na višini 2000 m 15 % manj UV sevanja kot na morski obali.
  - d) UV indeks je največji ob jasnem vremenu, ko je zrak suh in je Sonce visoko na nebu.
- 7. Kaj od naštetega drži poleti ob jasnem, sončnem vremenu in dobro prevetrenem ozračju?** 5 0 -5
- a) Na Triglavu je temperatura višja kot v dolini, saj smo bližje Soncu in nas zato bolj greje.
  - b) Na Triglavu je temperatura višja kot v dolini, saj temperatura z višino raste.
  - c) Na Triglavu je temperatura nižja kot v dolini, zaradi temperaturnega obrata.
  - d) Na Triglavu je temperatura nižja kot v dolini, saj temperatura z višino pada.
- 8. Kaj je azimut?** 5 0 -5
- a) Azimut je kot med severom in določeno točko, merjeno v smeri urinega kazalca.
  - b) Razdalja med severom in določeno točko, merjena v metrih.
  - c) Posebna naprava za merjenje kotov in razdalj.
  - d) Kot med izbranimi točkama glede na stojno točko.

PD Fram, PD Gornja Radgona, PD Lovrenc na Pohorju, PD Poljčane, PD Ptuj, PD Ruše





PLANINSKA  
ZVEZA  
SLOVENIJE

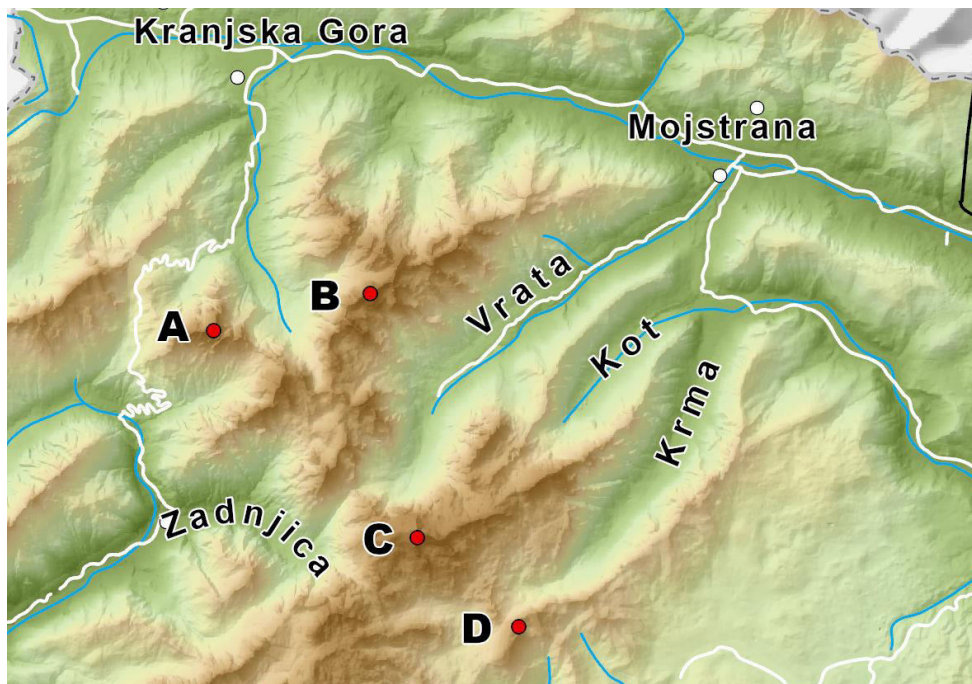
# SPOT

## Poljčane 2024




9. Na karti DTK25 odmerite razdaljo 30 mm, kakšna je ta razdalja v naravi (v metrih)? 5 0 -5
- a) 300 m.
  - b) 750 m.
  - c) 3000 m.
  - d) 7500 m.
10. Slap Rinka je ena izmed najbolj prepoznavnih znamenitosti Logarske Doline. Sicer pa je pri slapu tudi izvir najdaljše reke, ki v celoti teče le po slovenskem ozemlju. Katera reka je to? 5 0 -5
- a) Kamniška Bistrica.
  - b) Savinja.
  - c) Sava.
  - d) Drava.
11. Pred vami je zemljevid dela Julijskih Alp. Prikazane so nadmorske višine, reke in ceste ter označena nekatera zemljepisna imena. 5 0 -5

Na črto napišite črko ob točki, ki označuje TRIGLAV.



PD Fram, PD Gornja Radgona, PD Lovrenc na Pohorju, PD Poljčane, PD Ptuj, PD Ruše





PLANINSKA  
ZVEZA  
SLOVENIJE

# SPOT

## Poljčane 2024



12. V Sloveniji je veliko zavarovanih območij. Med njimi so tudi območja, kjer se že od nekdaj povezujeta naravna in kulturna dediščina in so namenjena predvsem ohranjanju krajine in sprostitvi človeka. Primeri takih območij so tudi Boč - Donačka gora, Goričko in Logarska dolina. **Za katero vrsto zavarovanja narave gre?** 5 0 -5
- a) Narodni park.
  - b) Regijski park.
  - c) Krajski park.
  - d) Naravni spomenik.
13. **Katera rastlina je poleg velikonočnice endemit na območju Boča ali Donačke gore?** 5 0 -5
- a) Juvanov netresk.
  - b) Planinski srobot.
  - c) Alpski repnjak.
  - d) Planika.
14. **Povežite ime živali s skupino (redom) živali v katero spada. Pravilne kombinacije zapišite na črto (npr. A1, B2, C3, D4)!** 5 0 -5
- |                     |               |
|---------------------|---------------|
| a) Črni apolon.     | 1) Hrošči.    |
| b) Hribski urh.     | 2) Metulji.   |
| c) Mali podkovnjak. | 3) Netopirji. |
| d) Rogač.           | 4) Dvoživke.  |

15. **Katera trditev o velikonočnici je PRAVILNA?** 5 0 -5
- a) Je med zgodnje cvetočimi rastlinami in tako ena prvih znanilk pomladi.
  - b) Zaradi značilnih dlačic ji pravimo tudi dlakavi zvonček.
  - c) Je ena redkih predstavnic panonskih rastlin v Sloveniji.
  - d) Rastlina ima okroglo steblo, ki lahko zraste tudi do 20 cm v višino.

PD Fram, PD Gornja Radgona, PD Lovrenc na Pohorju, PD Poljčane, PD Ptuj, PD Ruše

