

Test E, I

Ime ekipe: _____

PD/OŠ: _____

Kategorija: _____

Število doseženih točk: pozitivne: _____ negativne: _____ skupno: _____

Pred vami je teoretičen del tekmovanja. Test je sestavljen iz različnih tipov nalog. **Pravilno rešena naloga se točkuje s 5 točkami, nepravilna pa -5, nerešena naloga pa z 0.** Pišite jasno in čitljivo. Veliko sreče pri reševanju!


1. **Katera trditev o gozdni in drevesni meji v Sloveniji je NAPAČNA?** 5 0 -5
 - a) Gozdna meja poteka višje na južnih kot severnih straneh.
 - b) Drevesna meja sega tudi do višine 1950 m.
 - c) Višina gozdne meje je odvisna od delovanja naravnih in človeških dejavnikov.
 - d) V Julijskih Alpah je drevesna meja kakšnih 300 metrov višje kot v Kamniško-Savinjskih Alpah.

2. **Katera trditev o sončnem sevanju je PRAVILNA?** 5 0 -5
 - a) Pri nas v poletnem času v gorah UV indeks doseže vrednosti okoli 8.
 - b) V povprečju je na višini 2000 m 15 % več UV sevanja kot na morski obali.
 - c) UV indeks je največji, ko je zrak zelo vlažen in je sonce visoko na nebu.
 - d) Ob UV indeksu 6 sredi dneva ni potrebne posebne zaščite pred sončnim sevanjem.

3. **Kakšno temperaturo občutimo pri temperaturi zraka 0 °C in hitrosti vetra 6 m/s?** 5 0 -5
 - a) + 8 °C
 - b) 0 °C
 - c) -3 °C
 - d) -10 °C

4. **Kako se je imenovala skupina ljubljanskih planincev, ki je dala pobudo za ustanovitev Slovenskega planinskega društva?** 5 0 -5
 - a) Skalaši.
 - b) Drenovci.
 - c) Piparji.
 - d) Triglavski prijatelji.

PD Fram, PD Gornja Radgona, PD Lovrenc na Pohorju, PD Poljčane, PD Ptuj, PD Ruše





PLANINSKA
ZVEZA
SLOVENIJE

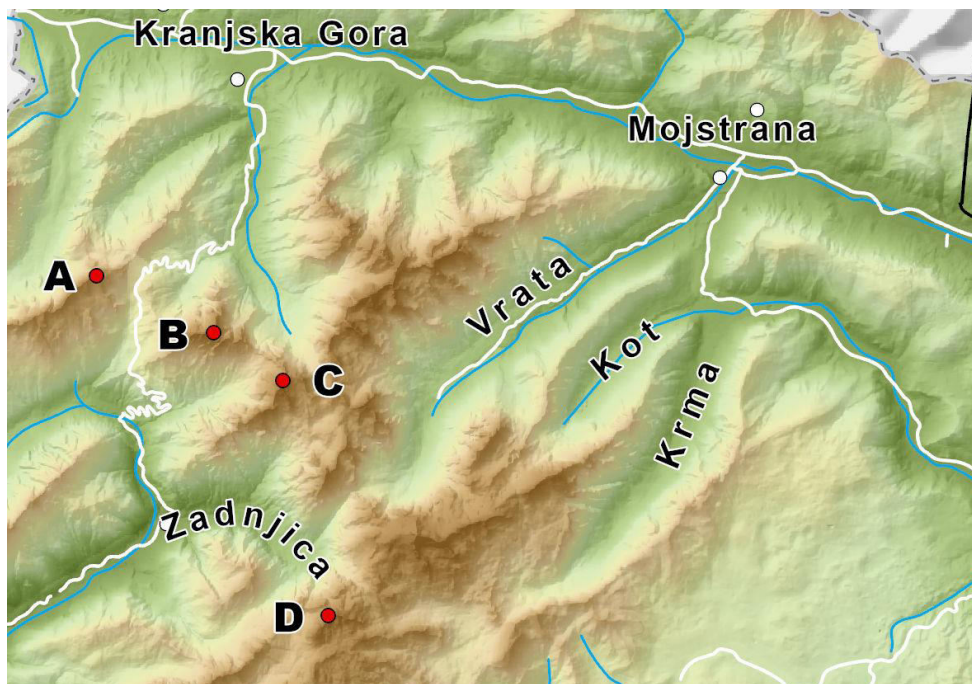
SPOT

Poljčane 2024




5. Kakšna je priporočena razdalja med pohodniki, ki NE uporabljajo pohodnih palic? 5 0 -5
- a) Približno 0,5 m.
 - b) Približno 1 m.
 - c) Več kot 2 m.
 - d) Odvisno od vsakega posameznika.
6. Nekatere nevarnosti imajo predvidljive vzroke in posledice, druge pa so prikrite. Kaj predstavlja prikrito nevarnost na turi? 5 0 -5
- a) Popoldanska poletna nevihta.
 - b) Mokra trava na strmih pobočjih.
 - c) Žulj, ki ga prepozno opazimo.
 - d) Težave s srcem, ki se pojavijo ob pretiranem naporu.
7. Pred vami je zemljevid dela Julijskih Alp. Prikazane so nadmorske višine, reke in ceste ter označena nekatera zemljepisna imena. 5 0 -5

Na črto napišite črko ob točki, ki označuje PRISOJNIK.



PD Fram, PD Gornja Radgona, PD Lovrenc na Pohorju, PD Poljčane, PD Ptuj, PD Ruše





PLANINSKA
ZVEZA
SLOVENIJE

SPOT

Poljčane 2024



8. Katera izmed naštetih trditev je NAPAČNA?

5 0 -5

- a) Med hojo držimo cepin tako, da je vrh (konica) okla obrnjena nazaj in stran od telesa.
- b) Med zaustavljanjem s cepinom moramo imeti čevlje z derezami dvignjene od tal.
- c) Na položnejših pobočjih lahko uporabljamo dereze skupaj s pohodnimi palicami.
- d) Cepin lahko uporabljamo za otrkavanje derez.

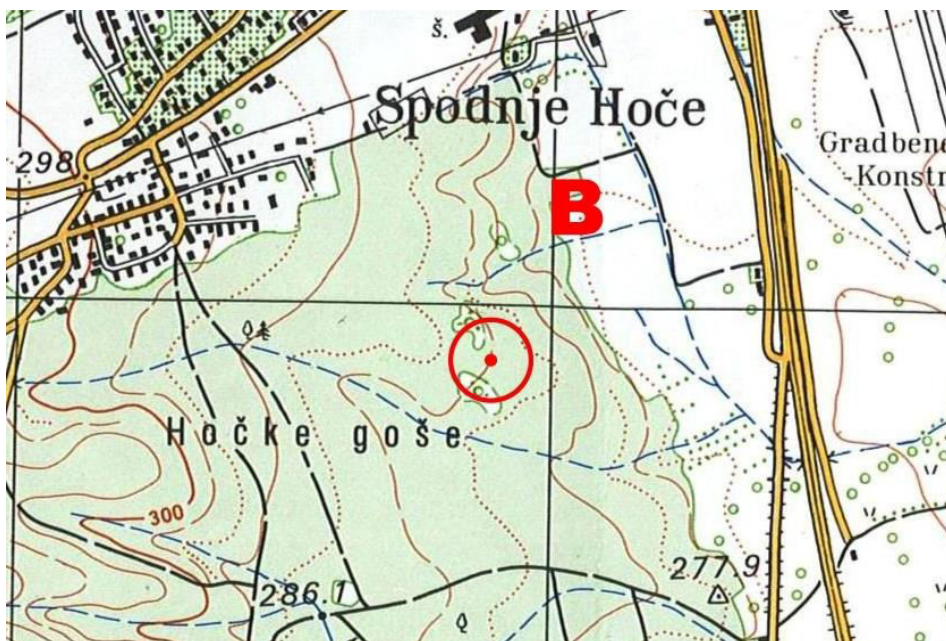
9. Razvrstite vrhove od najnižjega do najvišjega (od 1 do 6), pri čemer št. 1 predstavlja najnižjega od zapisanih, 6 pa najvišjega od zapisanih.

5 0 -5


- a) Kum. 1) _____
- b) Peca. 2) _____
- c) Prisojnik. 3) _____
- d) Resevna. 4) _____
- e) Škrlatica. 5) _____
- f) Velika planina. 6) _____

10. Na črto zapišite nadmorsko višino plastnice na kateri se nahaja točka B (pika sredi kroga).

5 0 -5



PD Fram, PD Gornja Radgona, PD Lovrenc na Pohorju, PD Poljčane, PD Ptuj, PD Ruše





PLANINSKA
ZVEZA
SLOVENIJE

SPOT

Poljčane 2024



11. Kaj pomeni reambulacija?

5 0 -5

- a) To je izraz za generalno prenovno karte, redno posodobitev.
- b) To je prikaz trigonometričnih točk v naravni velikosti.
- c) Gre za proces, s katerim so se v devetdesetih letih poenotile vse planinske karte.
- d) Gre za dogovorjeno poenostavitev karte (na primer povečavo majhnih, a pomembnih objektov na karti).

12. Katera trditev o Boču je NAPAČNA?

5 0 -5

- a) Geološko in geomorfološko predstavlja najvzhodnejši del Karavank.
- b) Boč izstopa nad gričevji in ravninami Panonskega sveta zaradi velike relativne višinske razlike (dobrih 900 metrov).
- c) Na območju sta kar dva krajinska parka (Boč - Donačka gora in Boč, Plešivec).
- d) Ob jasnem vremenu se z vrha razglednega stolpa na Boča vidi tudi Snežnik ter vrhovi Julijskih in Kamniško-Savinjskih Alp.

13. Katere rastline so endemiti na območju Boča ali Donačke gore?

5 0 -5

- a) Alpski repnjak.
- b) Avrikelj.
- c) Hoppejev klinček.
- d) Juvanov netresk.
- e) Planinski srobot.
- f) Velikonočnica.

14. Povežite ime živali s skupino (redom) živali v katero spada.

5 0 -5

Pravilne kombinacije zapišite na črto (npr. A1, B2, C3, D4)!

- | | |
|-------------------------|---------------|
| a) Travniški postavnež. | 1) Hrošči. |
| b) Mali podkovnjak. | 2) Metulji. |
| c) Hribski urh. | 3) Netopirji. |
| d) Bukov kozliček. | 4) Dvoživke. |

15. Katera trditev o velikonočnici je PRAVILNA?

5 0 -5

- a) Je zelnata trajnica in živi desetletja dolgo.
- b) Rastlina ima okroglo steblo, ki lahko zraste tudi do 40 cm v višino.
- c) Je ena redkih predstavnic borealnih rastlin v Sloveniji.
- d) Zaradi značilnih dlačic ji pravimo tudi dlakavi zvonček.

PD Fram, PD Gornja Radgona, PD Lovrenc na Pohorju, PD Poljčane, PD Ptuj, PD Ruše

